





၂၀၂၀ ပြည့်နှစ် အထွေထွေရွေးကောက်ပွဲ
ပြည်သူ့လွှတ်တော်
သစ်တီးတိုင်းစာရင်း
ညောင်းထီးဖြူနယ်စံဆေးနယ်

၁။ မဲခုံတွင်မဲစာရင်း ချိတ်ကတ် ချိတ်ကတ်/အထွေထွေရွေးကောက်ပွဲ ငြိမ်းမိခြင်းနှင့် မဲစား
လုံခြုံရေး ကိုယ်စားလှယ်လောင်း၏ အမည်တည်တည် စာရင်းစာရင်း
စာရင်းစာရင်းအတွက် ချိတ်ကတ်/အမည် "အမှတ်အသားပါစာရင်း" ဖြစ်
တံဆိပ်တံဆိပ် ချိတ်ကတ်ပါ။

၂။ ဖြစ်ပေါ်ခြင်းမရှိခြင်းနှင့် မဲစားလောင်း ကိုယ်စားလှယ်လောင်း၏ အမည်
တည်တည် စာရင်းစာရင်း စာရင်းစာရင်းအတွက် ချိတ်ကတ် စာရင်းစာရင်းဖြင့်
အမှတ်အသား "၂" ဖြစ်ပေါ်ပါ။

၃။ ကိုယ်စားလှယ်လောင်း တစ်ဦးထက်ပို၍ မဲစားရပါ။

ဦးထုတ်ဖျောင်း		
မော်စရိုင်း		
ဦးစနိုး		

မဲခုံမှူးလက်မှတ် _____
အမည် _____

ပုံစံ (၁)
- ကိုယ်စားလှယ်လောင်း တစ်ဦးကိုသာ ဆန္ဒပြုထားကြောင်း
ထင်ရှားသည့်ပုံ

ကိုယ်စားလှယ်လောင်းတစ်ဦးကိုသာရွေးချယ်ထားကြောင်း
သိသာပါသည်။ မည်သည့်မဲအမျိုးအစားဖြစ်မည်နည်း။
အဖြေမှန်ကိုရွေးပါ။

ခိုင်လုံမဲ - အဖြေမှန်ကန်ပါသည်။ ကိုယ်စားလှယ်လောင်းတစ်ဦးကိုသာ
ဆန္ဒပြုထားကြောင်းသိသာသောကြောင့် ခိုင်လုံမဲဖြစ်ပါသည်။





ပယ်မဲ - အဖြေမှာ မှားယွင်းနေပါသည်။ အဖြေမှန်မှာ ခိုင်လုံမဲ
ဖြစ်ပါသည်။ ကိုယ်စားလှယ်လောင်းတစ်ဦးကိုသာ
ဆန္ဒပြုထားကြောင်းသိသာသောကြောင့် ဖြစ်ပါသည်။

၂၀၂၀ ပြည့်နှစ် အထွေထွေရွေးကောက်ပွဲ
ပြည်သူ့လွှတ်တော်
သစ်တီးတိုင်းစာရင်း
ညောင်းထီးဖြူနယ်စံဆေးနယ်

၁။ မဲခုံတွင်မဲစာရင်း ချိတ်ကတ် ချိတ်ကတ်/အထွေထွေရွေးကောက်ပွဲ ငြိမ်းမိခြင်းနှင့် မဲစား
လုံခြုံရေး ကိုယ်စားလှယ်လောင်း၏ အမည်တည်တည် စာရင်းစာရင်း
စာရင်းစာရင်းအတွက် ချိတ်ကတ်/အမည် "အမှတ်အသားပါစာရင်း" ဖြစ်
တံဆိပ်တံဆိပ် ချိတ်ကတ်ပါ။

၂။ ဖြစ်ပေါ်ခြင်းမရှိခြင်းနှင့် မဲစားလောင်း ကိုယ်စားလှယ်လောင်း၏ အမည်
တည်တည် စာရင်းစာရင်း စာရင်းစာရင်းအတွက် ချိတ်ကတ် စာရင်းစာရင်းဖြင့်
အမှတ်အသား "၂" ဖြစ်ပေါ်ပါ။

၃။ ကိုယ်စားလှယ်လောင်း တစ်ဦးထက်ပို၍ မဲစားရပါ။

ဦးထုတ်ဖျောင်း		
မော်စရိုင်း		
ဦးစနိုး		

မဲခုံမှူးလက်မှတ် _____
အမည် _____

ပုံစံ (၂)
- တံဆိပ်တုံးသည် ပြောင်းပြန် ငွားတိုက် ဖြစ်နေသော်လည်း
ကိုယ်စားလှယ်လောင်း တစ်ဦးကိုသာ ဆန္ဒပြုထားသောပုံ

ဖော်ပြပါ မဲလက်မှတ်တွင် တံဆိပ်တုံးသည် ပြောင်းပြန်ဖြစ်နေပါသည်။
မည်သည့်မဲအမျိုးအစားဖြစ်မည်နည်း။ အဖြေမှန်ကိုရွေးပါ။

ခိုင်လုံမဲ - အဖြေမှန်ကန်ပါသည်။ တံဆိပ်တုံးသည်
ပြောင်းပြန်ဖြစ်နေသော်လည်း ကိုယ်စားလှယ်လောင်းတစ်ဦးကိုသာ
ဆန္ဒပြုထားကြောင်းသိသာပါသည်။ ထို့ကြောင့် ခိုင်လုံမဲဖြစ်ပါသည်။

ပယ်မဲ - အဖြေမှားယွင်းနေပါသည်။ တံဆိပ်တုံးသည်
ပြောင်းပြန်ဖြစ်နေသော်လည်း ကိုယ်စားလှယ်လောင်းတစ်ဦးကိုသာ
ဆန္ဒပြုထားကြောင်းသိသာပါသည်။ ထို့ကြောင့် ခိုင်လုံမဲဖြစ်ပါသည်။

၃

၂၀၂၀ ပြည့်နှစ် အထွေထွေရွေးကောက်ပွဲ ပြည်သူ့လွှတ်တော် သစ်သီးတိုင်းအသံဖြိုး ဆောင်ရွက်ပေးရေးအဖွဲ့

၁။ မဲခုံတွင်မဲအသွင်း သို့မဟုတ် မှတ်တမ်းကောက်ယူရာတွင် မဲစာရင်းမှ မဲအမှားကို ကိုယ်စားလှယ်လောင်း၏ အမည်တည့်တညွှတ် ဆောင်ရွက်ရန် လေးစားတုံ့ပြန်အကူအညီပေးရန်အတွက် "အမှန်" အမှတ်အသားပါသော တံဆိပ်တုံးဖြင့် ရိုက်နှိပ်ပေးပါ။

၂။ မြို့နယ်ကြိုတင်မဲဖြင့် မဲစာရင်းကောက်ယူရာတွင် မဲစာရင်းမှ မဲအမှားကို ကိုယ်စားလှယ်လောင်း၏ အမည် တည့်တညွှတ် ဆောင်ရွက်ရန် လေးစားတုံ့ပြန်အကူအညီပေးရန်အတွက် "အမှန်" အမှတ်အသားပါသော တံဆိပ်တုံးဖြင့် ရိုက်နှိပ်ပေးပါ။

၃။ ကိုယ်စားလှယ်လောင်း တံဆိပ်တုံးဖြင့် မဲစာရင်းရပါ။

ဦးစုကဲဆရာသီး		
ဆီဖရဲသီး		
ဦးပန်းသီး		

မဲခုံမှူးလက်မှတ်: _____
အမည်: _____

ပုံစံ (၃)
- တံဆိပ်တုံး၏ အကွက် (၉) ကွက်တွင် အနည်းဆုံး (၅) ကွက်သည် ကိုယ်စားလှယ်လောင်းတစ်ဦး၏ အကွက်အတွင်းသာ ကျရောက်သောမဲ

ဖော်ပြပါမဲသည်မည်သည့်မဲအမျိုးအစားဖြစ်မည်နည်း။
အဖြေမှန်ကိုရွေးပါ။

ခိုင်လုံမဲ - အဖြေမှန်ကန်ပါသည်။ တံဆိပ်တုံး၏ အကွက် (၉) ကွက်တွင် အနည်းဆုံး (၆) ကွက်သည် ကိုယ်စားလှယ်တစ်ဦး၏ အကွက်အတွင်းတွင် ကျရောက်သောကြောင့် ခိုင်လုံမဲဖြစ်ပါသည်။

ပယ်မဲ - အဖြေမှားယွင်းနေပါသည်။ အဖြေမှန် မှာ ခိုင်လုံမဲ ဖြစ်ပါသည်။ တံဆိပ်တုံး၏ အကွက် (၉) ကွက်တွင် အနည်းဆုံး (၅) ကွက်သည် ကိုယ်စားလှယ်တစ်ဦး၏ အကွက်အတွင်းသာ ကျရောက်သောကြောင့် ဖြစ်ပါသည်။




၄

၂၀၂၀ ပြည့်နှစ် အထွေထွေရွေးကောက်ပွဲ ပြည်သူ့လွှတ်တော် သစ်သီးတိုင်းအသံဖြိုး ဆောင်ရွက်ပေးရေးအဖွဲ့

၁။ မဲခုံတွင်မဲအသွင်း သို့မဟုတ် မှတ်တမ်းကောက်ယူရာတွင် မဲစာရင်းမှ မဲအမှားကို ကိုယ်စားလှယ်လောင်း၏ အမည်တည့်တညွှတ် ဆောင်ရွက်ရန် လေးစားတုံ့ပြန်အကူအညီပေးရန်အတွက် "အမှန်" အမှတ်အသားပါသော တံဆိပ်တုံးဖြင့် ရိုက်နှိပ်ပေးပါ။

၂။ မြို့နယ်ကြိုတင်မဲဖြင့် မဲစာရင်းကောက်ယူရာတွင် မဲစာရင်းမှ မဲအမှားကို ကိုယ်စားလှယ်လောင်း၏ အမည် တည့်တညွှတ် ဆောင်ရွက်ရန် လေးစားတုံ့ပြန်အကူအညီပေးရန်အတွက် "အမှန်" အမှတ်အသားပါသော တံဆိပ်တုံးဖြင့် ရိုက်နှိပ်ပေးပါ။

၃။ ကိုယ်စားလှယ်လောင်း တံဆိပ်တုံးဖြင့် မဲစာရင်းရပါ။

ဦးစုကဲဆရာသီး		
ဆီဖရဲသီး		
ဦးပန်းသီး		

မဲခုံမှူးလက်မှတ်: _____
အမည်: _____

ပုံစံ (၄)
- ကိုယ်စားလှယ်လောင်း၏ အမည်ပေါ်တွင် ရိုက်နှိပ် ဆန္ဒပြုထားသောမဲ

ဖော်ပြပါမဲလက်မှတ်တွင် ကိုယ်စားလှယ်လောင်း၏ အမည်ပေါ်တွင် ဆန္ဒပြုထားပါသည်။ မည်သည့်မဲအမျိုးအစားဖြစ်မည်နည်း။
အဖြေမှန်ကိုရွေးပါ။

ခိုင်လုံမဲ - အဖြေမှန်ကန်ပါသည်။ ကိုယ်စားလှယ်လောင်းတစ်ဦး၏ အမည်ပေါ်တွင် ဆန္ဒပြုထားပါသည်။ ခိုင်လုံမဲဖြစ်ပါသည်။

ပယ်မဲ - အဖြေမှားယွင်းနေပါသည်။ အဖြေမှန်မှာ ကိုယ်စားလှယ်လောင်းတစ်ဦးတည်း၏ အမည်ပေါ်တွင် ဆန္ဒပြုထားသောကြောင့် ဤမဲသည် ခိုင်လုံမဲဖြစ်ပါသည်။




၅

၂၀၂၀ ခုနှစ် အထွေထွေ ရွေးကောက်ပွဲ
ပြည်သူ့လွှတ်တော်
သမားတိုင်းအသင်းကြီး
ညောင်းဖိုးဖြန့်ဖြူးပေးရန်

၁။ မဲရက်သို့မဟုတ် မဲရက်ရက်စွာ ရက်စွဲထားသည့် ကြိုတင်မဲဖြစ်ပွဲ မဲစား
လျှောက် ကိုယ်စားလှယ်လောင်း၏ အမည်တည်တည် ဘေးဘက်ရှိ
လေးထောင့်အတွက် ထဲတွင် "အမှန်" အမှတ်အသားပါသော
တံဆိပ်ပုံဖြင့် ရိုက်နှိပ်ပေးပါ။

၂။ ဖြန့်ဖြူးပေးရန်မဲဖြစ်ပွဲ မဲစားလျှောက် ကိုယ်စားလှယ်လောင်း၏ အမည်
တည်တည် ဘေးဘက်ရှိ လေးထောင့်အတွက် ထဲတွင် မဘာလဲပင်ဖြင့်
အမှတ်အသား "မ" ဖြစ်ပေးပါ။

၃။ ကိုယ်စားလှယ်လောင်း တစ်ဦးထက် ပို၍ မဲမပေးရပါ။

ဦးစွာကိစ္စအစား		
ဒေါ်ဂရုမိ		
ဦးစွာမိ		

မဲရက်စွာကိစ္စအစား
အမည် တံဆိပ်ပုံအစား

ပုံစံ (၅)
- ကိုယ်စားလှယ်လောင်း၏ ပါတီ / အမှတ်တံဆိပ် ပေါ်တွင်
ရိုက်နှိပ်ထားသောမဲ

ဖော်ပြပါမဲလက်မှတ်အရ ကိုယ်စားလှယ်လောင်း၏ ပါတီ/
အမှတ်တံဆိပ်အပေါ်တွင် ဆန္ဒပြုထားပါသည်။
မည်သည့်မဲအမျိုးအစားဖြစ်မည်နည်း။ အဖြေမှန်ကိုရွေးပါ။

ခိုင်လုံမဲ - အဖြေမှန်ကန်ပါသည်။ ကိုယ်စားလှယ်လောင်းတစ်ဦး၏ ပါတီ/
အမှတ်တံဆိပ်ပေါ်တွင် ဆန္ဒပြုထားပါသည်။ ခိုင်လုံမဲဖြစ်ပါသည်။

ပယ်မဲ - အဖြေမှားယွင်းနေပါသည်။ ကိုယ်စားလှယ်လောင်း၏ ပါတီ/
အမှတ်တံဆိပ်ပေါ်တွင် ဆန္ဒပြုထားသောကြောင့် ဤမဲသည်
ခိုင်လုံမဲဖြစ်ပါသည်။

၆

ပုံစံ (၆) မဲစားလှယ်လောင်း၏ ပါတီ / အမှတ်တံဆိပ် ပေါ်တွင် ရိုက်နှိပ်ထားသောမဲ

ပုံစံ (၇) မဲစားလှယ်လောင်း၏ ပါတီ / အမှတ်တံဆိပ် ပေါ်တွင် ရိုက်နှိပ်ထားသောမဲ

ပုံစံ (၈) မဲစားလှယ်လောင်း၏ ပါတီ / အမှတ်တံဆိပ် ပေါ်တွင် ရိုက်နှိပ်ထားသောမဲ

ဖော်ပြပါမဲများသည် မည်သည့်မဲအမျိုးအစားဖြစ်မည်နည်း။
အဖြေမှန်ကိုရွေးပါ။

ခိုင်လုံမဲ - အဖြေမှန်ကန်ပါသည်။ ကိုယ်စားလှယ်လောင်းတစ်ဦးကိုသာ
ဆန္ဒပြုထားကြောင်း ထင်ရှားနေပါသည်။ ခိုင်လုံမဲဖြစ်ပါသည်။

ပယ်မဲ - အဖြေမှားယွင်းနေပါသည်။ အဖြေမှန်မှာ - ခိုင်လုံမဲဖြစ်ပါသည်။
ကိုယ်စားလှယ်လောင်းတစ်ဦးကိုသာ ဆန္ဒပြုထားကြောင်း
ထင်ရှားနေပါသည်။

၇

၂၀၂၀ပြည့်နှစ် အထွေထွေရွေးကောက်ပွဲ ပြည်သူ့လွှတ်တော် သစ်သီးတိုင်းဆေးကြောရေးကော်မရှင်းဖွဲ့ရေးမိန့်အမိန့်နံပါတ်

၁။ မိန့်တွင်မေးလျှင် သို့မဟုတ် ရုပ်ကွက်/ကားကွက်အုပ်စု ကြိုတင်မဖြုတ်လျှင် မဲပေးလိုသော ကိုယ်စားလှယ်လောင်း၏ အမည်တည့်တည့် ဘေးဘက်ရှိ လေးထောင့်အကွက်ထဲတွင် "အမှန်" အမှတ်အသားပါသော တံဆိပ်တုံးဖြင့် ရိုက်နှိပ်ပေးပါ။

၂။ ဇွန်နယ်ကြိုတင်မဖြုတ်လျှင် မဲပေးလိုသော ကိုယ်စားလှယ်လောင်း၏ အမည်တည့်တည့် ဘေးဘက်ရှိ လေးထောင့်အကွက်ထဲတွင် ဘေးလယ်ပင်ဖြင့် အမှတ်အသား "မ" ဖြစ်ပေးပါ။

၃။ ကိုယ်စားလှယ်လောင်း တစ်ဦးထက်ပို၍ မဲမပေးရပါ။

ဦးတန်းပေးသီး		
ခေါ်စေ့သီး		
နှစ်ဦးစား		

မဲရုံမျိုးလက်မှတ်၊ အမည်၊ တံဆိပ် (၅) - တံဆိပ်တုံးတစ်ကြိမ်နှင့်အထက် ရိုက်နှိပ် ထားသော်လည်း ကိုယ်စားလှယ်လောင်း တစ်ဦးကိုသာ ဆန္ဒပြုထားသောမဲ

ဖော်ပြပါမဲသည် မည်သည့်မဲအမျိုးအစားဖြစ်မည် နည်း။ အဖြေမှန်ကိုရွေးပါ။

ခိုင်လုံမဲ - အဖြေမှန်ကန်ပါသည်။ တံဆိပ်တုံးတစ်ကြိမ်နှင့်အထက် ရိုက်နှိပ်ထားသော်လည်း ကိုယ်စားလှယ်လောင်းတစ်ဦးကိုသာဆန္ဒပြုထားသည့်အတွက် ခိုင်လုံမဲဖြစ်ပါသည်။

ပယ်မဲ - အဖြေမှားယွင်းနေပါသည်။ တံဆိပ်တုံးတစ်ကြိမ်နှင့်အထက် ရိုက်နှိပ်ထားသော်လည်း ကိုယ်စားလှယ်လောင်းတစ်ဦးကိုသာဆန္ဒပြုထားသည့်အတွက် ခိုင်လုံမဲဖြစ်ပါသည်။

၈

၂၀၂၀ပြည့်နှစ် အထွေထွေရွေးကောက်ပွဲ ပြည်သူ့လွှတ်တော် သစ်သီးတိုင်းဆေးကြောရေးကော်မရှင်းဖွဲ့ရေးမိန့်အမိန့်နံပါတ်

၁။ မိန့်တွင်မေးလျှင် သို့မဟုတ် ရုပ်ကွက်/ကားကွက်အုပ်စု ကြိုတင်မဖြုတ်လျှင် မဲပေးလိုသော ကိုယ်စားလှယ်လောင်း၏ အမည်တည့်တည့် ဘေးဘက်ရှိ လေးထောင့်အကွက်ထဲတွင် "အမှန်" အမှတ်အသားပါသော တံဆိပ်တုံးဖြင့် ရိုက်နှိပ်ပေးပါ။

၂။ ဇွန်နယ်ကြိုတင်မဖြုတ်လျှင် မဲပေးလိုသော ကိုယ်စားလှယ်လောင်း၏ အမည်တည့်တည့် ဘေးဘက်ရှိ လေးထောင့်အကွက်ထဲတွင် ဘေးလယ်ပင်ဖြင့် အမှတ်အသား "မ" ဖြစ်ပေးပါ။

၃။ ကိုယ်စားလှယ်လောင်း တစ်ဦးထက်ပို၍ မဲမပေးရပါ။

ဦးတန်းပေးသီး		
ခေါ်စေ့သီး		
နှစ်ဦးစား		


မဲရုံမျိုးလက်မှတ်၊ အမည်၊ တံဆိပ် (၁၀) - တံဆိပ်တုံးတစ်ကြိမ်နှင့်အထက် ရိုက်နှိပ် ထားသော်လည်း ကိုယ်စားလှယ်လောင်း တစ်ဦးကိုသာ ဆန္ဒပြုထားသောမဲ

ဖော်ပြပါမဲသည် မည်သည့်မဲအမျိုးအစားဖြစ်မည် နည်း။ အဖြေမှန်ကိုရွေးပါ။

ခိုင်လုံမဲ - အဖြေမှန်ကန်ပါသည်။ တံဆိပ်တုံးတစ်ကြိမ်နှင့်အထက် ရိုက်နှိပ်ထားသော်လည်း ကိုယ်စားလှယ်လောင်းတစ်ဦးကိုသာဆန္ဒပြုထားသည့်အတွက် ခိုင်လုံမဲဖြစ်ပါသည်။

ပယ်မဲ - အဖြေမှားယွင်းနေပါသည်။ တံဆိပ်တုံးတစ်ကြိမ်နှင့်အထက် ရိုက်နှိပ်ထားသော်လည်း ကိုယ်စားလှယ်လောင်းတစ်ဦးကိုသာဆန္ဒပြုထားသည့်အတွက် ခိုင်လုံမဲဖြစ်ပါသည်။

၉



ဖော်ပြပါမဲလက်မှတ်နမူနာများသည် မည်သည့်မဲအမျိုးအစားဖြစ်မည်သနည်း။ အဖြေမှန်ကိုရွေးပါ။

ခိုင်လုံမဲ - အဖြေမှန်ကန်ပါသည်။ တံဆိပ်တုံးတစ်ကြိမ်နှင့်အထက် ရိုက်နှိပ်ထားသော်လည်း ကိုယ်စားလှယ်လောင်းတစ်ဦးကိုသာဆန္ဒပြုထားသည့်အတွက် ခိုင်လုံမဲဖြစ်ပါသည်။

ပယ်မဲ - အဖြေမှားယွင်းနေပါသည်။ တံဆိပ်တုံးတစ်ကြိမ်နှင့်အထက် ရိုက်နှိပ်ထားသော်လည်း ကိုယ်စားလှယ်လောင်းတစ်ဦးကိုသာဆန္ဒပြုထားသည့်အတွက် ခိုင်လုံမဲဖြစ်ပါသည်။

၁၀

၂၀၂၀ပြည့်နှစ် အထွေထွေရွေးကောက်ပွဲ ဖြည့်လွှတ်တော် သစ်သီးတိုင်းစာသင်္ကြံ၊ ညောင်သီးဖြူနယ်စံဆန္ဒစုနယ်

၁။ မဲခုံတွင်မဲခွင့်ရသူများ၏ ရုပ်ကွက်/ရုပ်ပုံများကို ဖြည့်သွင်းပြီး မဲခွင့် ရရှိသော ကိုယ်စားလှယ်လောင်း၏ အမည်အညွှန်းကို ရေးသားရန် စာရေးရေးဆွဲပေးထားသော မဲစာရွက်ကို အောက်ဖော်ပြပါအတိုင်း အမှတ်အသားပေးရမည်။

၂။ ဖြန့်ချိပြီးနောက်မဲခွင့်ရသူ၏ မဲစာရွက်ကို ကိုယ်စားလှယ်လောင်း၏ အမည် အညွှန်းကို ရေးသားရန် စာရေးရေးဆွဲပေးထားသည့် မဲစာရွက်ပုံစံဖြင့် အမှတ်အသားပေးရမည်။

၃။ မဲစာရွက်ပုံစံကို အောက်ဖော်ပြပါအတိုင်း ဖြည့်စွက်ရမည်။

ဦးငှက်ပျောသီး		
ခေါပဲရသီး		
ဦးဝန်းသီး		

မဲစာရွက်ပုံစံ

အမည် _____

ရက်စွဲ _____

ပုံစံ (၁၄)

- ပထမတံဆိပ်တုံး အတွက်သည် ကိုယ်စားလှယ်လောင်း တစ်ဦး အတွက် ဆန္ဒပြုထားပြီး ဒုတိယတံဆိပ်တုံး၏ (၉) ကွက်တွင် အမှတ်အသား (၅) ကွက်သည် ယင်းကိုယ်စားလှယ်လောင်း၏ အတွက် အတွင်းပိုင်းသာ ကျရောက်သောမဲ

ဖော်ပြပါမဲသည် မည်သည့်မဲအမျိုးအစားဖြစ်မည် နည်း။ အဖြေမှန်ကိုရွေးပါ။

ခိုင်လုံမဲ - အဖြေမှန်ကန်ပါသည်။ ကိုယ်စားလှယ်လောင်းတစ်ဦးကိုသာ ဆန္ဒပြုထားကြောင်းသေချာသည့်အတွက် ခိုင်လုံမဲဖြစ်ပါသည်။

ပယ်မဲ - အဖြေမှားယွင်းနေပါသည်။ ကိုယ်စားလှယ်လောင်းတစ်ဦးကိုသာ ဆန္ဒပြုထားကြောင်းသေချာသည့်အတွက် ခိုင်လုံမဲဖြစ်ပါသည်။

၁၁

မည်သည့်ကိုယ်စားလှယ်အားဆန္ဒပြုထားကြောင်းဆုံးဖြတ်ရခက်ပါသည်။
 ထို့ကြောင့် _____ မဲဖြစ်ပါသည်။
ပယ်မဲ။ - အဖြေမှန်ကန်ပါသည်။

ခိုင်လုံမဲ။ - အဖြေမှားယွင်းနေပါသည်။

၁၂

၂၀ ပြည့်နှစ် အထွေထွေရွေးကောက်ပွဲ
ပြည်သူ့ဝတ်တော်
သစ်လီးတိုင်းသေကြီး
ညောင်းဖီးဖြူဖယ်မိဆန္ဒမူပယ်

၁။ မဲခွဲတွင်မဲသောပွဲ သို့မဟုတ် ရွေးကောက်ပွဲအတွက်မဲခွဲတွင် မဲဆား ချိုးသော ကိုယ်စားလှယ်လောင်း၏ အမည်တည်းကညွှန် မဲဆားကော်မရှီ လေးဆောင်အတွက် ထဲတွင် "အမှန်"အမှတ်အသားပါသော ကိုယ်စားလှယ်မဲခွဲ ဖြစ်နိုင်ပါသည်။

၂။ ဖြူဖယ်ကြီးတင်မဲခွဲတွင် မဲပေးသူသော ကိုယ်စားလှယ်လောင်း၏ အမည် တည်းကညွှန် ဆေးစာကော်မရှီ လေးဆောင်အတွက် ထဲတွင် ခေကာလိပ်ပြည့် အမှတ်အသား "၂" ဖြစ်သောပါ။

၃။ ကိုယ်စားလှယ်လောင်း တစ်ဦးချင်းစီရှိ မဲပေးရမည့်ပုံ

ဦးတော်ဆူပေးသီး		
ခေါ်ခရဲသီး		
ဦးပန်းသီး		

မဲခွဲမှူးလက်မှတ်: _____
 အမည်: _____

ပုံစံ (၃)
 - ဆန္ဒပြုရမည့် အကွက်ပြင်ပတွင် ဆန္ဒပြုထားသော မဲ

ဖော်ပြပါ မဲလက်မှတ်သည် မည်သည့်မဲအမျိုးအစားဖြစ်မည်နည်း။
 အဖြေမှန်ကိုရွေးပါ။

ပယ်မဲ - အဖြေမှန်ကန်ပါသည်။ ဆန္ဒပြုရမည့်အကွက်ပြင်ပတွင် ဆန္ဒပြုထားသောကြောင့် ပယ်မဲဖြစ်ပါသည်။

ခိုင်လုံမဲ - အဖြေမှားမှားယွင်းနေပါသည်။ အဖြေမှန်မှာ ပယ်မဲဖြစ်ပါသည်။ ဆန္ဒပြုရမည့်အကွက်ပြင်ပတွင် ဆန္ဒပြုထားသောကြောင့်ဖြစ်ပါသည်။





၁၃

၂၀၂၀ ပြည့်နှစ် အထွေထွေရွေးချယ်ရေး ဖြစ်သည့်လွတ်တော် သစ်သီးတိုင်းစာသင်္ကြံ၊ ရွာသစ်သီးဖြူနယ်စံဆန္ဒနယ်

၁။ မဲရုံတွင်မဲလောင်း သို့မဟုတ် ရုပ်ပုံကွက်ကားပေး လိုသော ကိုယ်စားလှယ်လောင်း၏ အမည်၊ လေးစောင်အက္ခက်ထဲတွင် "အမှန်" အမှတ်အသား၊ တံဆိပ်ကပ်ဖြင့် ရိုက်နှိပ်ပေးပါ။

၂။ မြို့နယ်ကြိုတင်မဲဖြစ်လျှင် မဲပေးလိုသော ကိုယ်စားလှယ်လောင်း၏ အမည် ကျသည့် စာသားကို ရိုက်နှိပ်ပေးစေရန်အတွက်ထဲတွင် စာသားပင်ဖြင့် အမှတ်အသား "မ" ဖြစ်ပေးပါ။

၃။ ကိုယ်စားလှယ်လောင်း တစ်ဦးထက်ပို၍ မဲမပေးရပါ။

ဦးထွက်ဆရာသီး		
ဆေးမရဲသီး		
ဦးပန်းသီး		

မဲရုံမှူးလက်မှတ်: _____
အမည်: _____

ပုံစံ (၄)
- စုတ်ပြနေသော မဲ

ဖော်ပြပါ စုတ်ပြနေသောမဲသည် မည်သည့်မဲ အမျိုးအစားဖြစ်မည်နည်း။

ပယ်မဲ - အဖြေမှန်ပါသည်။

ခိုင်လုံမဲ - အဖြေမှာမှားယွင်းနေပါသည်။ အဖြေမှန်မှာ ပယ်မဲဖြစ်ပါသည်။ စုတ်ပြနေသောမဲသည် ပယ်မဲဖြစ်ပါသည်။





၁၄

၂၀၂၀ ပြည့်နှစ် အထွေထွေရွေးချယ်ရေး ဖြစ်သည့်လွတ်တော် သစ်သီးတိုင်းစာသင်္ကြံ၊ ရွာသစ်သီးဖြူနယ်စံဆန္ဒနယ်

၁။ မဲရုံတွင်မဲလောင်း သို့မဟုတ် ရုပ်ပုံကွက်ကားပေး လိုသော ကိုယ်စားလှယ်လောင်း၏ အမည်၊ လေးစောင်အက္ခက်ထဲတွင် "အမှန်" အမှတ်အသားပါသော တံဆိပ်ကပ်ဖြင့် ရိုက်နှိပ်ပေးပါ။

၂။ မြို့နယ်ကြိုတင်မဲဖြစ်လျှင် မဲပေးလိုသော ကိုယ်စားလှယ်လောင်း၏ အမည် ကျသည့် စာသားကို ရိုက်နှိပ်ပေးစေရန်အတွက်ထဲတွင် စာသားပင်ဖြင့် အမှတ်အသား "မ" ဖြစ်ပေးပါ။

၃။ ကိုယ်စားလှယ်လောင်း တစ်ဦးထက်ပို၍ မဲမပေးရပါ။

ဦးထွက်ဆရာသီး		
ဆေးမရဲသီး		
ဦးပန်းသီး		

မဲရုံမှူးလက်မှတ်: _____
အမည်: _____

ပုံစံ (၅)
- မဲရုံမှူးလက်မှတ်မပါသော မဲ

ဖော်ပြပါမဲလက်မှတ်မှာ မည်သည့်မဲအမျိုးအစားဖြစ်မည်နည်း။ အဖြေမှန်ကိုရွေးပါ။

ပယ်မဲ - အဖြေမှန်ကန်ပါသည်။ မဲရုံမှူးလက်မှတ်မပါသောကြောင့် ပယ်မဲဖြစ်ပါသည်။

ခိုင်လုံမဲ - အဖြေမှာမှားယွင်းနေပါသည်။ မဲရုံမှူးလက်မှတ်မပါသောကြောင့် ပယ်မဲဖြစ်ပါသည်။




၁၅

၂၀၂၀ပြည့်နှစ် အထွေထွေရွေးကောက်ပွဲ
ပြည်သူ့လွှတ်တော်
သစ်သီးတိုင်းစာသင်ကြား
ညောင်းသီးဖြူနွယ်မဲဆန္ဒနယ်

၁။ မဲရဲတွင်မဲပေးလျှင် သို့မဟုတ် ရုပ်တူကတ်/မေးခွန်းတစ်ခု ကြိုတင်မဲဖြစ်သွင် မဲပေး
လိုသော ကိုယ်စားလှယ်လောင်း၏ အမည်တည့်တည့် စာသားကတ်ရှိ
ပေးစေသော အထွေထွေအထွေထွေအမည်အမှတ်အသားပါသော
ကတ်စံပုံတူဖြင့် ရိုက်နှိပ်ပေးပါ။

၂။ မြို့နယ်ကြိုတင်မဲဖြစ်သွင် မဲပေးလိုသော ကိုယ်စားလှယ်လောင်း၏ အမည်
တည့်တည့် စာသားကတ်ရှိ ပေးစေသော အထွေထွေအထွေထွေအမည်အမှတ်အသား
အမှတ်အသား "၂" ဖြစ်ပေးပါ။

၃။ ကိုယ်စားလှယ်လောင်း စာမိန့်အားကတ်ပြု၍ မဲပေးရပါ။

ဦးတင်အမှတ်အသား		
ဆေးကတ်အမှတ်အသား		
ဦးပေးအမှတ်အသား		

မဲရဲများလက်မှတ်၊
အမည် _____ ကပ်စားကတ်စား

ပုံစံ (၆)
- လုံးဝဆန္ဒမပြုထားသော မဲ

ဖော်ပြပါ ဆန္ဒမပြုထားသောမဲမှာ မည်သည့်မဲအမျိုးအစားဖြစ်သနည်း။

ပယ်မဲ - အဖြေမှန်ကန်ပါသည်။
လုံးဝဆန္ဒမပြုထားသောမဲလက်မှတ်သည် ပယ်မဲဖြစ်ပါသည်။

ခိုင်လုံမဲ - အဖြေမှာမှားယွင်းနေပါသည်။ အဖြေမှန်မှာ ပယ်မဲဖြစ်ပါသည်။
လုံးဝဆန္ဒမပြုထားသောမဲလက်မှတ်သည် ပယ်မဲဖြစ်ပါသည်။





၁၆

၂၀၂၀ပြည့်နှစ် အထွေထွေရွေးကောက်ပွဲ
ပြည်သူ့လွှတ်တော်
သစ်သီးတိုင်းစာသင်ကြား
ညောင်းသီးဖြူနွယ်မဲဆန္ဒနယ်

၁။ မဲရဲတွင်မဲပေးလျှင် သို့မဟုတ် ရုပ်တူကတ်/မေးခွန်းတစ်ခု ကြိုတင်မဲဖြစ်သွင် မဲပေး
လိုသော ကိုယ်စားလှယ်လောင်း၏ အမည်တည့်တည့် စာသားကတ်ရှိ
ပေးစေသော အထွေထွေအထွေထွေအမည်အမှတ်အသားပါသော
ကတ်စံပုံတူဖြင့် ရိုက်နှိပ်ပေးပါ။

၂။ မြို့နယ်ကြိုတင်မဲဖြစ်သွင် မဲပေးလိုသော ကိုယ်စားလှယ်လောင်း၏ အမည်
တည့်တည့် စာသားကတ်ရှိ ပေးစေသော အထွေထွေအထွေထွေအမည်အမှတ်အသား
အမှတ်အသား "၂" ဖြစ်ပေးပါ။

၃။ ကိုယ်စားလှယ်လောင်း စာမိန့်အားကတ်ပြု၍ မဲပေးရပါ။

ဦးတင်အမှတ်အသား		
ဆေးကတ်အမှတ်အသား		
ဦးပေးအမှတ်အသား		

မဲရဲများလက်မှတ်၊
အမည် _____ ကပ်စားကတ်စား

ပုံစံ (၇)
- အစွန်းအထင်းပါသော မဲ


ဖော်ပြပါ ဆန္ဒမဲသည် မည်သည့်မဲအမျိုးအစားဖြစ်မည်နည်း။
အဖြေမှန်ကိုရွေးပါ။

ပယ်မဲ - အဖြေမှန်ကန်ပါသည်။ အစွန်းအထင်းပါသည့်အတွက်
ပယ်မဲဖြစ်ပါသည်။

ခိုင်လုံမဲ - အဖြေမှာမှားယွင်းနေပါသည်။ အဖြေမှန်မှာ ပယ်မဲဖြစ်ပါသည်။
အစွန်းအထင်းပါသည့်အတွက် ပယ်မဲဖြစ်ပါသည်။





၁၇

၂၀၂၀ ပြည့်နှစ် အထွေထွေရွေးကောက်ပွဲ
ပြည်သူ့လွှတ်တော်
သစ်တီးတိုင်းဒေသကြီး
ညောင်တိုးမြို့နယ်မဲဆန္ဒနယ်

၁။ မဲရုံတွင်မဲစာလွှာနှင့် သို့မဟုတ် ရက်စွဲတစ်/ကော့ရှားစာရင်းစုံ ပြန်တင်မိပြုနိုင်သည့် မဲစာ
လွှာက ကိုယ်စားလှယ်လောင်း၏ အမည်တည့်တည့် စာတင်ထားပြီး
လေးထောင့်အတွက်ထဲတွင် "အမှန်" အမှတ်အသားပါသော 
တံဆိပ်ကိုဖြင့် ရိုက်နှိပ်ပေးပါ။

၂။ မြို့နယ်မြို့တော်မိန့်ခွဲတွင် မဲစာလွှာက ကိုယ်စားလှယ်လောင်း၏ အမည်
တည့်တည့် စာတင်ပြီး လေးထောင့်အတွက်ထဲတွင် စာတင်ပုံဖြင့်
အမှတ်အသား "၂" ဖြစ်စေပါ။

၃။ ကိုယ်စားလှယ်လောင်း တစ်ဦးထက်ပို၍ မဲစာပေးရပါ။

ဦးတင်ပေးသီး		
ခေါ်ဝခံသီး		
ဦးရန်သီး		

မဲရုံမှူးလက်မှတ်: _____
အမည်: _____

ပုံစံ (၈)
- အမှတ်အသား ပြုထားသော မဲ


ဖော်ပြပါ ဆန္ဒမဲသည် မည်သည့်မဲအမျိုးအစားဖြစ်မည်နည်း။
အဖြေမှန်ကိုရွေးပါ။

ပယ်မဲ - အဖြေမှန်ကန်ပါသည်။ (အမှတ်အသားပြုထားသော
မဲလက်မှတ်ဖြစ်သည့်အတွက် ပယ်မဲဖြစ်ပါသည်။)

ခိုင်လုံမဲ - အဖြေမှန်မှားယွင်းနေပါသည်။ အဖြေမှန်မှာ ပယ်မဲဖြစ်ပါသည်။
(အမှတ်အသားပြုထားသော မဲလက်မှတ်ဖြစ်သည့်အတွက်
ပယ်မဲဖြစ်ပါသည်။)







၁၈

၂၀၂၀ ပြည့်နှစ် အထွေထွေရွေးကောက်ပွဲ
ပြည်သူ့လွှတ်တော်
သစ်တီးတိုင်းဒေသကြီး
ညောင်တိုးမြို့နယ်မဲဆန္ဒနယ်

၁။ မဲရုံတွင်မဲစာလွှာနှင့် သို့မဟုတ် ရက်စွဲတစ်/ကော့ရှားစာရင်းစုံ ပြန်တင်မိပြုနိုင်သည့် မဲစာ
လွှာက ကိုယ်စားလှယ်လောင်း၏ အမည်တည့်တည့် စာတင်ထားပြီး
လေးထောင့်အတွက်ထဲတွင် "အမှန်" အမှတ်အသားပါသော 
တံဆိပ်ကိုဖြင့် ရိုက်နှိပ်ပေးပါ။

၂။ မြို့နယ်မြို့တော်မိန့်ခွဲတွင် မဲစာလွှာက ကိုယ်စားလှယ်လောင်း၏ အမည်
တည့်တည့် စာတင်ပြီး လေးထောင့်အတွက်ထဲတွင် စာတင်ပုံဖြင့်
အမှတ်အသား "၂" ဖြစ်စေပါ။

၃။ ကိုယ်စားလှယ်လောင်း တစ်ဦးထက်ပို၍ မဲစာပေးရပါ။

ဦးတင်ပေးသီး		
ခေါ်ဝခံသီး		
ဦးရန်သီး		

မဲရုံမှူးလက်မှတ်: _____
အမည်: _____

ပုံစံ (၉)
- ကိုယ်စားလှယ်လောင်း တစ်ဦးထက်ပို၍ ဆန္ဒပြုထားသော မဲ

ဖော်ပြပါ မဲသည် ကိုယ်စားလှယ်လောင်းတစ်ဦးထက်ပို၍
ဆန္ဒပြုထားသောကြောင့် ပယ်မဲဖြစ်ပါသည်။ အမှန်/အမှား ရွေးပါ။

မှန် - အဖြေမှန်ကန်ပါသည်။

မှား - အဖြေမှားယွင်းနေပါသည်။






၁၉

၂၀၂၀ ပြည့်နှစ် အဆင့်မြင့်စာမေးပွဲ
ပြည်သူ့ဝန်ထမ်း
သင်တန်းအောင်မြင်ရေး
အောင်ဆန်းမြို့နယ်စာမေးပွဲ

၁။ မိန့်တော်မူသည့် ဝန်ထမ်းများ၏ စာမေးပွဲအောင်မြင်ရေးအတွက် ကြိုတင်မိန့်တော်မူခဲ့သည့် အခါက ကိုယ်စားလှယ်လောင်း၏ အမည်တို့သည် စာမေးပွဲအောင်မြင်ရေးအတွက် အကျိုးရှိမည့် အမူအရာအားလုံးကို စီမံအုပ်ချုပ်ရန် တာဝန်ရှိပါသည်။

၂။ မြို့နယ်ကြီးကြပ်ရေးမှူးချုပ် စာမေးပွဲအောင်မြင်ရေးကို ကိုယ်စားလှယ်လောင်း၏ အမည်တို့သည် စာမေးပွဲအောင်မြင်ရေးအတွက် အကျိုးရှိမည့် အမူအရာအားလုံးကို စီမံအုပ်ချုပ်ရန် တာဝန်ရှိပါသည်။

၃။ ကိုယ်စားလှယ်လောင်း တစ်ဦးထက်ပို၍ မဲမပေးရပါ။

ဦးထွန်းမောင်		
စောဇော်မောင်		
ဦးစန်းမောင်		

မဲပေးရန်အတွက်
အမည် _____ တံဆိပ်နှိပ်ပါ။

ပုံစံ (၁၀)
- ကိုယ်စားလှယ်လောင်းနှစ်ဦးအား ဆန္ဒပြုထားသော မဲ

ဖော်ပြပါမဲသည် ခိုင်လုံမဲဖြစ်ပါသည်။ အမှန်/အမှား ရွေးပါ။

မှန် - အဖြေမှားယွင်းနေပါသည်။ အဖြေမှန်မှာ - ကိုယ်စားလှယ်လောင်းနှစ်ဦးအား ဆန္ဒပြုထားသောကြောင့် ပယ်မဲဖြစ်ပါသည်။

မှား - အဖြေမှန်ပါသည်။ ကိုယ်စားလှယ်လောင်းနှစ်ဦးအား ဆန္ဒပြုထားသောကြောင့် ပယ်မဲ ဖြစ်ပါသည်။





၂၀

၂၀၂၀ ပြည့်နှစ် အဆင့်မြင့်စာမေးပွဲ
ပြည်သူ့ဝန်ထမ်း
သင်တန်းအောင်မြင်ရေး
အောင်ဆန်းမြို့နယ်စာမေးပွဲ

၁။ မိန့်တော်မူသည့် ဝန်ထမ်းများ၏ စာမေးပွဲအောင်မြင်ရေးအတွက် ကြိုတင်မိန့်တော်မူခဲ့သည့် အခါက ကိုယ်စားလှယ်လောင်း၏ အမည်တို့သည် စာမေးပွဲအောင်မြင်ရေးအတွက် အကျိုးရှိမည့် အမူအရာအားလုံးကို စီမံအုပ်ချုပ်ရန် တာဝန်ရှိပါသည်။

၂။ မြို့နယ်ကြီးကြပ်ရေးမှူးချုပ် စာမေးပွဲအောင်မြင်ရေးကို ကိုယ်စားလှယ်လောင်း၏ အမည်တို့သည် စာမေးပွဲအောင်မြင်ရေးအတွက် အကျိုးရှိမည့် အမူအရာအားလုံးကို စီမံအုပ်ချုပ်ရန် တာဝန်ရှိပါသည်။

၃။ ကိုယ်စားလှယ်လောင်း တစ်ဦးထက်ပို၍ မဲမပေးရပါ။

ဦးထွန်းမောင်		
စောဇော်မောင်		
ဦးစန်းမောင်		

မဲပေးရန်အတွက်
အမည် _____ တံဆိပ်နှိပ်ပါ။

ပုံစံ (၁၀)
- ပထမတံဆိပ်တုံးအတွက်သည် ကိုယ်စားလှယ်လောင်းတစ်ဦးအတွက် ဆန္ဒပြုထားပြီး ဒုတိယတံဆိပ်တုံးအရေ၏ (၉) ကွက်တွင် အနည်းဆုံး (၅) ကွက်သည် အခြားကိုယ်စားလှယ်လောင်းတစ်ဦး၏အတွက်ပေါ်သို့ ကျရောက်နေသောမဲ

ဖော်ပြပါမဲသည် ပယ်မဲ ဖြစ်ပါသည်။ အမှန်/အမှား ရွေးပါ။

မှန် - အဖြေမှန်ပါသည်။ တံဆိပ်တုံးအတွက်တစ်ခုတွင် ကိုယ်စားလှယ်လောင်းတစ်ဦးအား ဆန္ဒပြုထားပြီး အခြားတံဆိပ်တုံး၏ အတွက် (၉) ကွက်တွင် (၅) ကွက်သည် အခြားကိုယ်စားလှယ်လောင်းတစ်ဦး၏ အတွက်ပေါ်သို့ကျရောက်နေသောကြောင့်ဖြစ်သည်။

မှား - အဖြေမှားယွင်းနေပါသည်။ တံဆိပ်တုံးအတွက်တစ်ခုတွင် ကိုယ်စားလှယ်လောင်းတစ်ဦးအား ဆန္ဒပြုထားပြီး အခြားတံဆိပ်တုံး၏ အတွက် (၉) ကွက်တွင် (၅) ကွက်သည် အခြားကိုယ်စားလှယ်လောင်းတစ်ဦး၏ အတွက်ပေါ်သို့ကျရောက်နေသောကြောင့် ပယ်မဲဖြစ်သည်။